

8 Va au bout de la **rue des Douves** et rentre dans le village par la **Porte Saint-Martin** pour aller dans la **rue du Couvent**. Observe les vignes près de la **Tour du Roy**. La vigne pousse à travers le calcaire pour produire du raisin. Donne un numéro aux images correspondant aux saisons de la pousse de la vigne. À quelle étape sommes-nous aujourd'hui ? Si celle-ci est ouverte, tu peux visiter l'exposition de la **Maison du Vin** au bout de la **rue des Ecoles**. Elle pourrait t'aider.




- (1) En avril les **bourgeons** se forment. (5) En août les raisins **murissent**.
 (2) En mai les **feuilles** sortent. (6) En septembre la grappe **est mûre**.
 (3) En juin la **grappe** apparaît. (7) En octobre les feuilles **jaunissent** avant de
 (4) En ju*illet* les raisins **se développent**. tomber.

Question

Trouve le nom du cépage (variété de vigne) principal cultivé à Saint-Émilion.

Réponse : LE M _____

9 Trouve maintenant le nom de la zone inscrite au Patrimoine Mondial de l'Humanité par l'UNESCO avec ses 8 villages.



Robin comprend mieux son « coteau » : une région où l'on cultive la vigne pour faire du vin depuis très longtemps. Les 8 villages de la Juridiction de Saint-Émilion étaient dirigés par la Jurade il y a plus de 800 ans. Depuis, la nature et les bâtiments, que les Hommes ont construit pour vivre et produire du vin, créent des paysages vivants qu'il nous faut protéger.

Si tu as trouvé la réponse, Robin a une surprise pour toi !! Viens la récupérer à l'**Office de Tourisme**. Et si tu le souhaites, nous pouvons t'envoyer les réponses par e-mail. Pour cela, contacte-nous à accueil@saint-emilion-tourisme.com !

En Gironde, dans plusieurs sites touristiques, Robin t'invite à faire des découvertes tout en t'amusant ! Pour connaître les sites, connecte-toi sur : www.surlepistesderobin.com



PISTE DE ROBIN

NATURE

NIVEAU 3

13 à 15 ans

*A la découverte des paysages inscrits au
patrimoine mondial de l'UNESCO*

Bonjour !

Je m'appelle Robin ! Je suis fier de mon « coteau » comme je l'appelle ! Je vis ici, où mes parents travaillent la vigne et font du vin. En 1999, je n'étais pas né quand les paysages que je connais bien ont été inscrits au Patrimoine Mondial de l'Humanité. Des personnes de toute la France mais aussi du monde entier viennent chez moi. Et j'aimerais bien comprendre pourquoi !



À ton tour maintenant, ouvre l'œil ! Suis la piste de Robin, il t'a laissé quelques énigmes pour découvrir les richesses des paysages de Saint-Émilion. Reporte les indices marqués dans une case colorée à la fin du jeu.

1 À Saint-Émilion, la nature, tout comme les monuments qui forment ensemble les paysages, méritent le nom de « patrimoine ». Il faut en prendre soin et c'est pour cela que les paysages sont aujourd'hui protégés. Rends-toi près du clocher, tu trouveras la représentation du temple de la culture qui le protège ! Que signifie UNESCO ?

UNESCO OR des NA UN pour l'ED , la SC et la CU .

2 Rends-toi au Cloître des Cordeliers en passant par la rue des Girondins. Place Cap du Pont, profite de la vue sur la ville avec ses deux tours. En face, tu découvres une tour carrée qui a été construite au XIIIème siècle ! C'est dans cette Tour du Roy que le Conseil de la ville se réunissait au Moyen Âge pour prendre des décisions importantes. Découvre le nom de cette assemblée qui gérait la ville mais aussi les 8 villages aux alentours grâce à cette charade :

- Mon premier est le liquide extrait du fruit pressé.
- Selon Jean de La Fontaine, mon second est des villes ou des champs.
- Mon troisième est égal à $30 \times 2 = \text{---} \div 6 = \text{---} - 8 = \text{---}$
- Mon tout forme le nom de la Confrérie des Vins de Saint-Émilion de nos jours et du conseil municipal au Moyen Âge.

Réponse : LA

À droite, tu peux voir le clocher qui domine toute la ville et les vignes aux alentours. On le voit et on l'entend de très loin, guidant ainsi les pèlerins dans la ville. Il y a eu 5 groupes de religieux différents dans la ville pour accueillir ces voyageurs, dont les Cordeliers, appelés aussi Franciscains. Tu es juste devant leur église. Les moines qui occupaient ce monastère produisaient du vin et on en fait encore ! Comment s'appelle ce vin pétillant produit ici depuis le XIXème siècle ?

Réponse : DU




3 Passe par la rue et la Porte Brunet, tu arrives sur la place du Grand Vinetier. C'est par cette porte que rentraient dans la ville le vin et le blé qui étaient produits dans la région. Le paysage avec la vallée qui s'ouvre sur ta droite porte un nom. Trouve-le en reportant la lettre indiquée par une couleur dans le tableau ci-dessous :

1. C'est le lieu d'élevage du vin en barrique :
2. Célèbre poète romain de IVème siècle qui a vécu ici et qui a donné son nom à un château prestigieux (toit d'ardoise en face) :
3. Cépage utilisé dans les vins de Saint-Émilion :
4. Contenant fabriqué par le tonnelier : la
5. Élément vital aux Hommes comme aux plantes :
6. La Terre lui tourne autour :

Réponse :

4 Devine le nom des 2 rivières qui coulent loin du village, tout en bas dans la vallée au sud et l'autre au nord. Elles étaient les frontières du territoire dirigé par la Jurade du Moyen Âge à la Révolution française.



Réponse : LA D Réponse : LA

Descends le coteau par le chemin enherbé à droite et longe les vignes. Ce chemin longe les anciens remparts qui protégeaient la ville et était bordé de moulins au Moyen Âge.

5 Monte la rue de la Madeleine. En haut de la côte, tu arrives à l'entrée du fameux château qui tient son nom du poète romain. Certains châteaux de Saint-Émilion sont classés et celui-ci se trouve en-haut de la pyramide. Sachant qu'il existe deux appellations (AOC), Saint-Émilion et Saint-Émilion Grand Cru. Complète la pyramide des vins en remettant dans l'ordre : Grands Crus Classés, 1er Grands Crus Classés A, 1er Grands Crus Classés B et Grands Crus sachant que la catégorie la plus prestigieuse est en haut de la pyramide.



6 Des kilomètres de galeries furent creusés dans le plateau calcaire, sous la ville et les vignes. Emprunte la ruelle piétonnière et rejoins la rue des douves pour voir l'entrée d'une carrière souterraine. La pierre était extraite sous forme de blocs pour construire les maisons. À ton avis, quels outils utilisait-on pour tailler la pierre ? Retrouve à qui servait ces outils pour la construction des maisons que tu vois.



MAÇON



CHARPENTIER



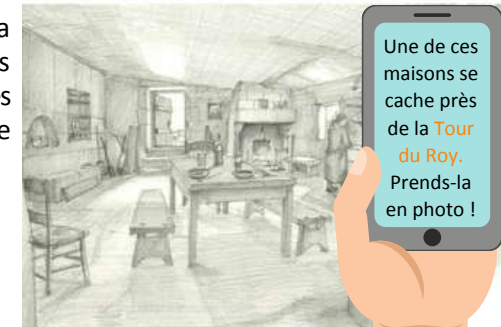
TAILLEUR DE PIERRE

7 Continue le long de la rue des Douves. Il y a plus de 100 ans, des personnes vivaient dans des maisons souterraines. On peut toujours voir des portes et des fenêtres murées au bout de cette rue. Ils cultivaient leurs potagers en face.

Comment peut-on aussi appeler ces maisons ?

UNE MAISON

T



Une de ces maisons se cache près de la Tour du Roy. Prends-la en photo !